

1. Выберите один правильный ответ. Ответы в виде цифр запишите в таблицу ниже. Максимум 6 баллов (по 2 балла за каждый правильный ответ).

1.1. Прочитайте отрывок из документа и укажите его автора.

«Ведайте, все христолюбцы и боголюбцы, как все христианские царства пришли к концу и сошлись в едином царстве нашего Государя... два Рима пали, а третий стоит, а четвертому не быти...внемли, благочестивый царь, как православная вера сошлась в твое единственное царство; один ты во всей поднебесной христианский царь, и твое христианское царство иным не станется».

1) Аввакум 2) Нил Сорский 3) Филофей 4) Иосиф Волоцкий

1.2. Прочитайте фрагмент из летописи и укажите век, когда происходило описываемое в отрывке событие.

«О деньгах. Тоя же зимы князь великий и мати его великая княгиня, видев неправду в людях, денег умножися поддельных и резаных, и восхоте то лукавство из своего государства вывести, и посоветовал о том с боярами, и повелел государь и его мати делати деньги новые...а старые деньги и поддельные и резаные переделывать...»

1) XV в. 2) XVI в. 3) XVII в. 4) XVIII в.

1.3. Прочитайте отрывок из воспоминаний и назовите автора.

«Чем больше я играл Бориса Годунова, Грозного, Досифея, Варяжского гостя и Голову в "Майской ночи", тем более я убеждался, что артист в опере должен не только петь, но и играть роль, как играют в драме. В опере надо петь, как говорят. Впоследствии я заметил, что артисты, желавшие подражать мне, не понимают меня. Они не пели, как говорят, а говорили, как поют».

1) С.И. Мамонтов 2) С.В. Рахманинов 3) С.П. Дягилев 4) Ф.И. Шаляпин

1.4. Прочитайте фрагмент исторического источника и укажите государственного деятеля, о котором идет речь?

Тогдашний министр финансов часто приводил свою излюбленную метафору, утверждая, что *«железная дорога в экономическом организме имеет то же значение, какое в телесном организме приписывается кровообращению, доставляющему во все уголки его питательные вещества. Но при этом нельзя искусственно изменять кровообращение, направляя его в одни части организма за счет других частей».*

1) С.Ю. Витте 2) П.А. Столыпин 3) В.К. Плеве 4) К.П. Победоносцев

Ответ:

1.1.	1.2.	1.3.	1.4.

2. Установите правильную хронологическую последовательность. Максимум 9 баллов (по 3 балла за каждую правильно установленную последовательность).

2.1. События истории Нижегородского края:

А. Летом в Нижний Новгород по Волге приплыл тверской купец Афанасий Никитин и жил в городе две недели.

Б. Едигей разгромил и пожег Нижний Новгород и Городец. «Жителей Нижнего Новгорода частью умертвили, частью взяли в плен, угнав их перед конниками как псов»

В. В Нижний Новгород въехал Великий князь Московский Василий Дмитриевич, княжество потеряло свою самостоятельность.

Г. На реке Пьяне в сражении ордынский царевич Арапша разгромил русское войско, утонул в Пьяне сын князя Дмитрия – Иван.

Д. Нижний Новгород стал столицей Суздальско-Нижегородского княжества.

Ответ:

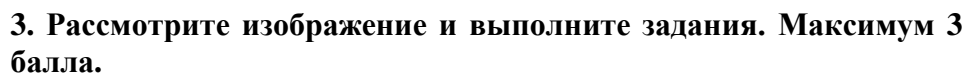
--	--	--	--	--

А. Издание Положения о крестьянах, вышедших из крепостной зависимости.
Б. Издание указа о вольных хлебопашцах.
В. Учреждение Крестьянского банка.
Г. Реформа государственной деревни.
Д. Отмена крепостного права в Прибалтике.

--	--	--	--	--

- А. «Слово о полку Игореве».
- Б. «Поучение Владимира Мономаха».
- В. «Задонщина».
- Г. «Слово о Законе и Благодати».
- Д. «Слово о погибели Русской земли».

--	--	--	--	--



- 1) Стрелецкий бунт в Москве.
- 2) Морозовская стачка.
- 3) Московское восстание против правительства Глинских.
- 4) «Обуховская оборона».
- 5) Восстание под предводительством Е.И. Пугачева.
- 6) Беспорядки в Угличе.
- 7) Восстание Соловецкого монастыря.
- 8) Восстание матросов на броненосце «Князь Потемкин-Таврический».
- 9) Чумной бунт в Москве.
- 10) Бунты военных поселян.

XVI B.		XVII B.		XVIII B.		XIX B.		XX B.	

5. Установите соответствие между партийными лидерами XX в. и их высказываниями по вопросу о заключении сепаратного мира с Германией. Обратите внимание, что одно положение в правом столбце является «лишним». Ответ в виде цифр запишите в таблицу ниже. Максимум 6 баллов.

ЛИДЕРЫ	ВЫСКАЗЫВАНИЯ О ЗАКЛЮЧЕНИИ СЕПАРАТНОГО МИРА С ГЕРМАНИЕЙ
А) В.И. Ленин	1) «...всемирное стремление довести мировую войну до решительной победы лишь усилилось благодаря сознанию общей ответственности всех и каждого. Это стремление стало более действительным, будучи сосредоточено на близкой для всех и очередной задаче отразить врага, вторгнувшегося в самые пределы нашей родины».
Б) Н.И. Бухарин	2) «Заключая сепаратный мир, мы в наибольшей степени ...получаем известный период развязанных рук для продолжения и закрепления социалистической революции».
В) Л.Д. Троцкий	3) «Пусть немцы нас побьют. Сохраняя свою социалистическую республику, мы проигрываем шансы международного движения. ...Русская революция либо будет спасена международной революцией, либо погибнет под ударами международного капитала».
Ответ:	4) «Договора не подписываем, военных действий не ведем, армию демобилизуем. Попытка немецкой военной машины расправиться с безоружной Россией вызовет революцию в Германии».

6. Заполните пропуски в тексте. Ответы запишите в таблицу ниже. Максимум 12 баллов (по 2 балла за каждый верный ответ).

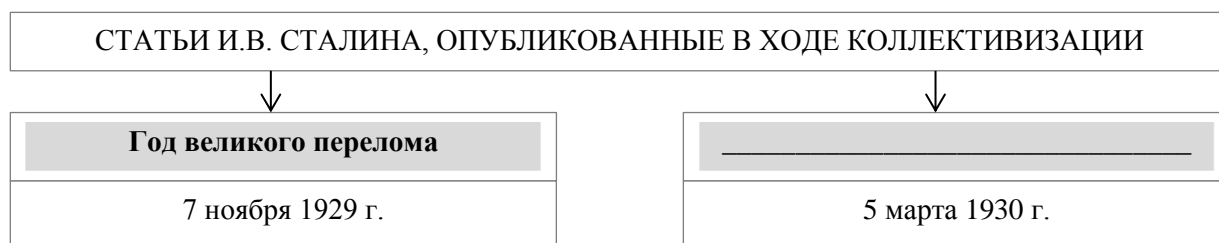
К 1760 году русская армия, самая многочисленная и одна из самых боеспособных в Европе, достигла значительных успехов в масштабном общеевропейском конфликте, который вошёл в историю как ____ (1 – название войны) война. Главный противник России в этой войне, ____ (2 – государство), потерпел несколько чувствительных поражений и уступил русским войскам ряд территорий. Король ____ (3 – имя короля) II, несмотря на репутацию талантливого полководца, находился в отчаянии и признавался, что «считает всё потерянным». Русские подразделения даже вошли во вражескую столицу, ____ (4 – город), правда, вскоре отступили, успев уничтожить ряд стратегически важных объектов в городе. Россия готовилась присоединить оккупированные ей территории на Балтике.

Перелом в войне наступил неожиданно. В декабре ____ (5 – год) года скончалась русская императрица ____ (6 – имя и отчество), и на престол взошёл Пётр III. Из соображений личных симпатий к королю враждебной страны он в корне переменял курс внешней политики России: разорвал связи с союзниками, подписал сепаратный мир и вернул вчерашнему противнику все завоёванные Россией земли. Это ухудшило отношение российских элит к и без того непопулярному новому императору и приблизило его скорое свержение».



Ответ:

1		4	
2		5	
3		6	

7. Запишите название, пропущенное в схеме. Максимум за задание 2 балла.



8. Рассмотрите исторические карикатуры, плакаты. Укажите с точностью до года, когда они появились. С какими событиями связано их появление? Ответы запишите в таблицу. Максимум 10 баллов (по 1 баллу за каждый правильный ответ).



Ответ:

	Год	Событие
1		
2		
3		
4		
5		